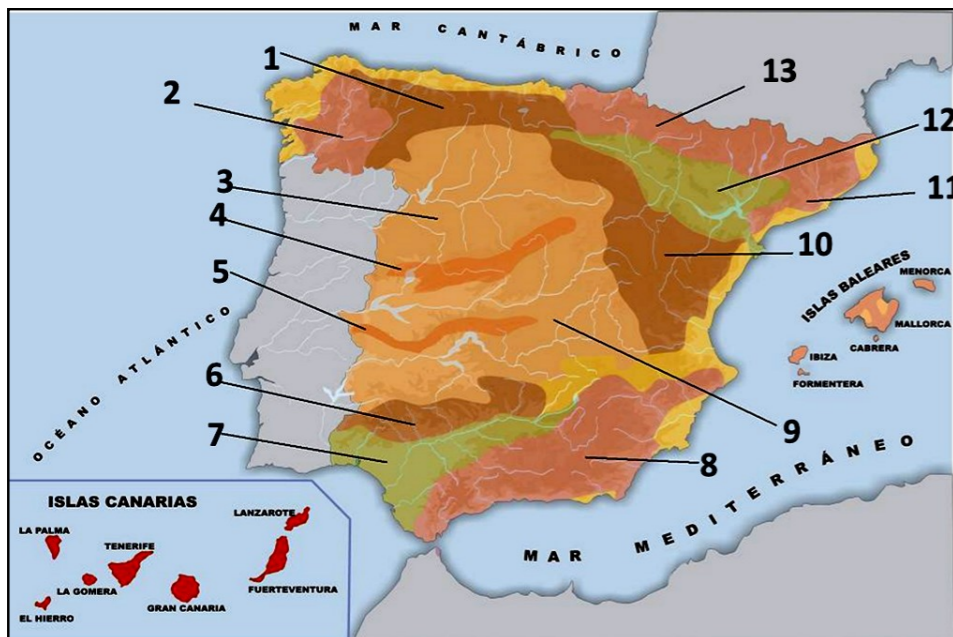


El alumnado deberá responder a una de las dos opciones que se proponen. Además de los contenidos, en la calificación de la prueba, particularmente en el Apartado B, se valorará la redacción, la ortografía y la puntuación.

OPCIÓN 1

APARTADO A (3 puntos)



Observe el mapa y responda a las siguientes cuestiones:

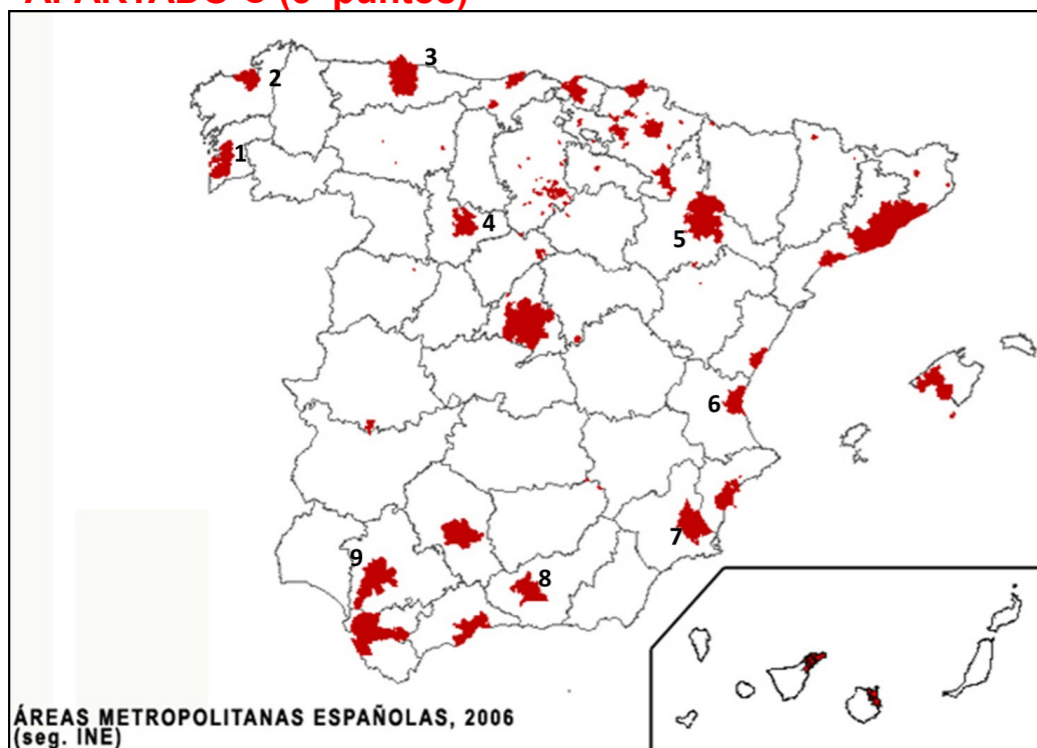
1. Identifique, utilizando como referencia los números, los rebordes de la Meseta, e indique sus nombres (1 punto).
2. Identifique, utilizando como referencia los números, las unidades de relieve interiores de la Meseta, e indique sus nombres (1 punto)

Defina 3 de los siguientes términos (1 punto): cauce, suelo, dolina, altitud, efecto invernadero.

APARTADO B (4 puntos)

Desarrolle de manera sintética el siguiente tema: **LAS MIGRACIONES ACTUALES EN ESPAÑA: TIPOS, CAUSAS Y CONSECUENCIAS. LAS MIGRACIONES EN ASTURIAS**

APARTADO C (3 puntos)



1. Identifique, utilizando como referencia los números, las nueve áreas metropolitanas señaladas (1 punto).
2. Señale cuáles son las principales funciones que acogen tales áreas (1 punto).

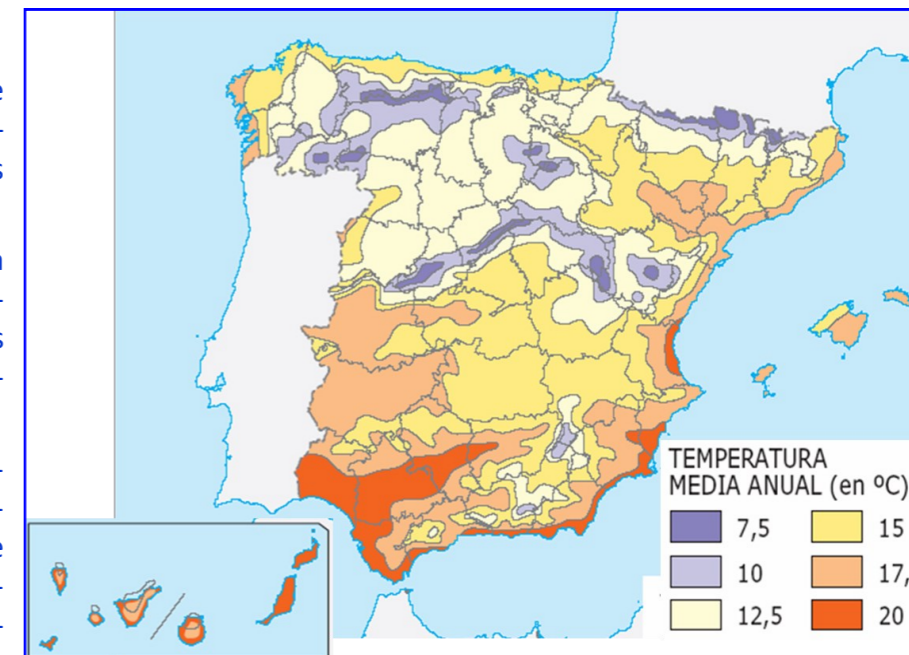
Defina 3 de los siguientes términos (1 punto): población joven, artesanía, agricultura a tiempo parcial, casco antiguo, terciarización económica.

OPCIÓN 2

APARTADO A (3 puntos)

1. Observe el mapa e identifique las provincias con las temperaturas medias anuales más altas (1 punto)
2. A la vista del mapa, indique la influencia del relieve en la distribución de las temperaturas en la Península Ibérica (1 punto).

Defina 3 de los siguientes términos (1 punto): frente (en climatología y meteorología), monte bajo, rocas metamórficas, superficie de erosión, vértice geodésico.



APARTADO B (4 puntos)

Desarrolle de manera sintética el siguiente tema: **LOS TIPOS DE TURISMO EXISTENTES EN ESPAÑA: DEL TURISMO DE MASAS AL TURISMO CULTURAL Y NATURAL. EL TURISMO EN ASTURIAS**

APARTADO C (3 puntos)

Observe el mapa y responda a las siguientes cuestiones:

1. ¿En qué provincias es la población de 65 y más años superior al 25%? (1 punto)
2. ¿Cuáles son las causas del envejecimiento de la población española? (1 punto)

Defina 3 de los siguientes términos (1 punto): densidad de población, sector terciario, superficie agraria, parque tecnológico, región urbana.

