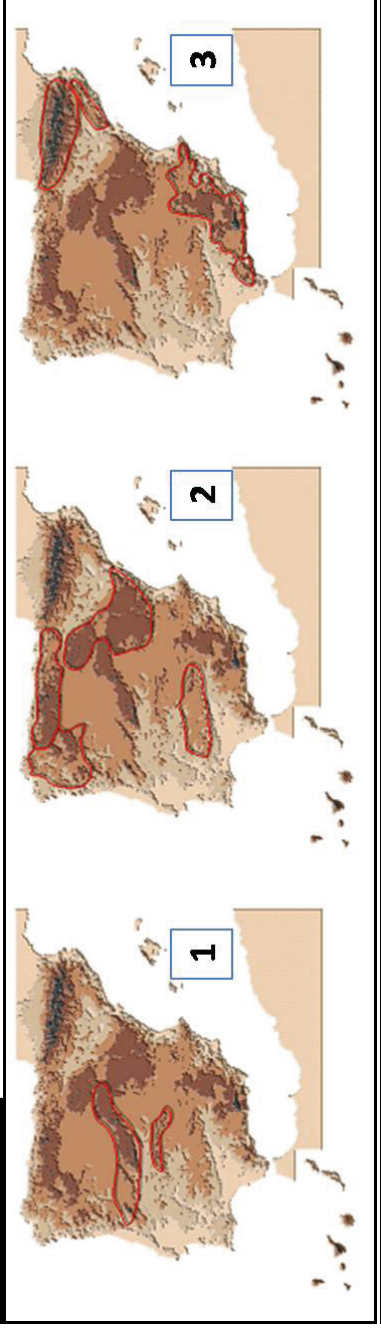


**GEOGRAFÍA**

El alumnado deberá responder a una de las dos opciones en los Apartados A y C (3 puntos cada Apartado) y desarrollar un tema de los propuestos en el Apartado B (4 puntos). Además de los contenidos, en la calificación de la prueba, particularmente en el Apartado B, se valorará la redacción, la ortografía y la puntuación.

**APARTADO A**

**Opción 1**



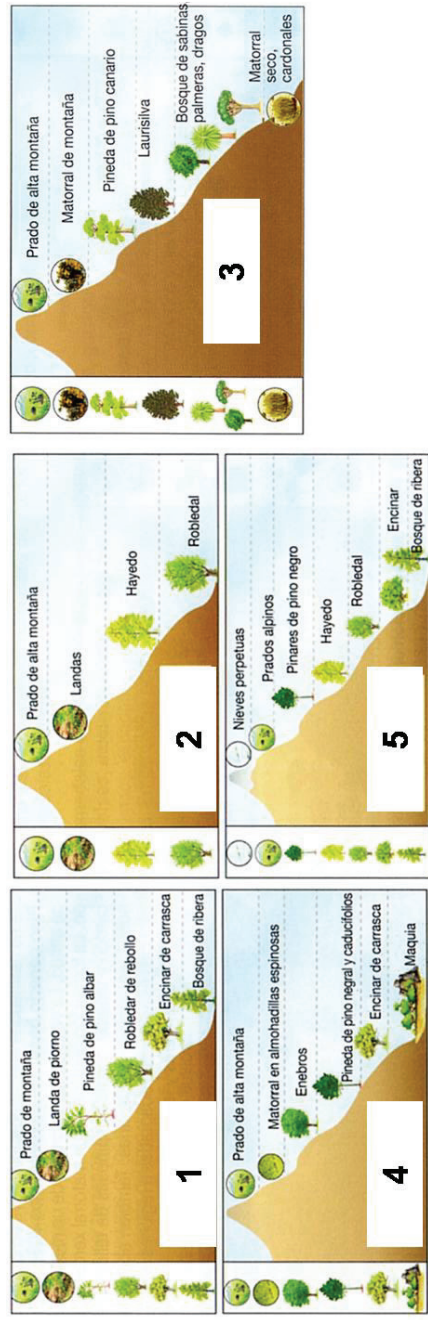
Observe los mapas que se adjuntan y responda a las siguientes cuestiones:

- a) Indique, utilizando como referencia los números, el nombre que reciben las unidades de relieve señaladas en cada uno de los mapas (1 punto)
- b) Señale los nombres de las cuatro cadenas montañosas resaltadas en el mapa 2 (1 punto)
- c) Comente las características principales de una de esas cadenas [puede elegir cualquiera de las cuatro] (1 punto)

**Opción 2**

Observe las cliseries y responda a las siguientes cuestiones:

- 1) Identifique, utilizando los números, el sistema montañoso al que corresponde cada una de las cliseries (1 punto).
- 2) Explique brevemente las características de los bosques caducifolios y señale las especies arbóreas más significativas de los mismos. (2 puntos)



**APARTADO B**

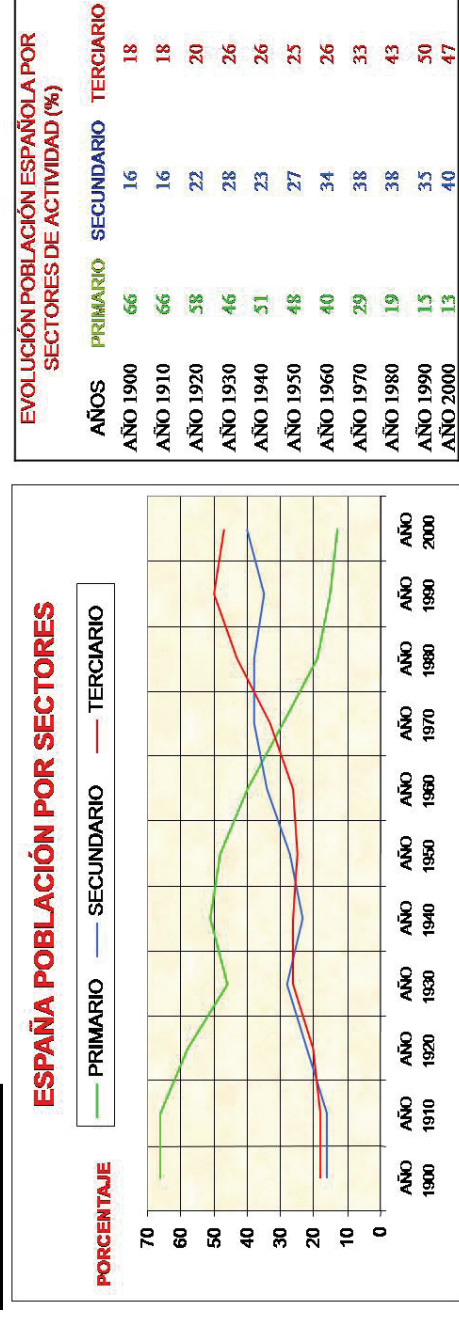
Desarrolle de manera sintética uno de los tres temas siguientes:

1. Los elementos del clima. Sus características referidas a España.
2. Situación actual de la agricultura española en relación con la Política Agraria Común.

3. El sistema urbano asturiano.

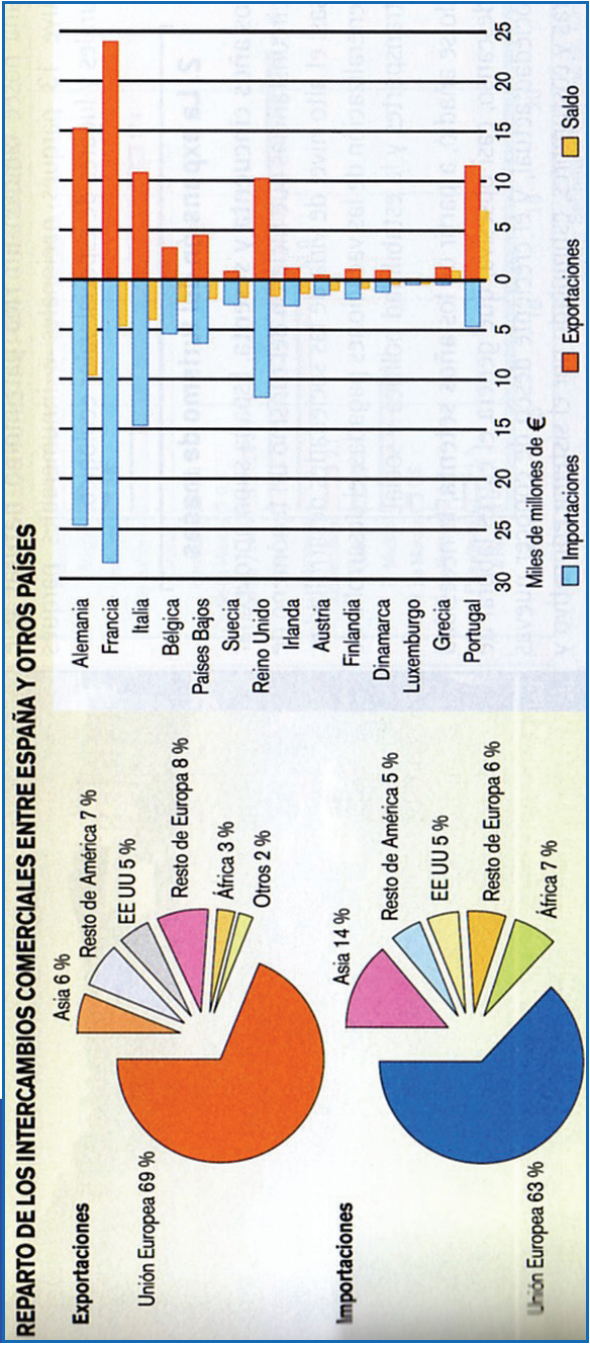
**APARTADO C**

**Opción 1**



Observe el cuadro y el gráfico adjuntos y comente la evolución por sectores de la población activa española a lo largo del siglo XX

**Opción 2**



Utilizando como referencia los gráficos, comente los rasgos básicos del comercio exterior de España en lo que se refiere a áreas de comercio, volumen de los intercambios y balanza comercial