

**GEOGRAFÍA**

El alumnado deberá responder a una de las dos opciones en los Apartados A y C (3 puntos cada Apartado) y desarrollar un tema de los propuestos en el Apartado B (4 puntos). Además de los contenidos, en la calificación de la prueba, particularmente en el Apartado B, se valorará la redacción, la ortografía y la puntuación.

**APARTADO A**

**Opción 1**

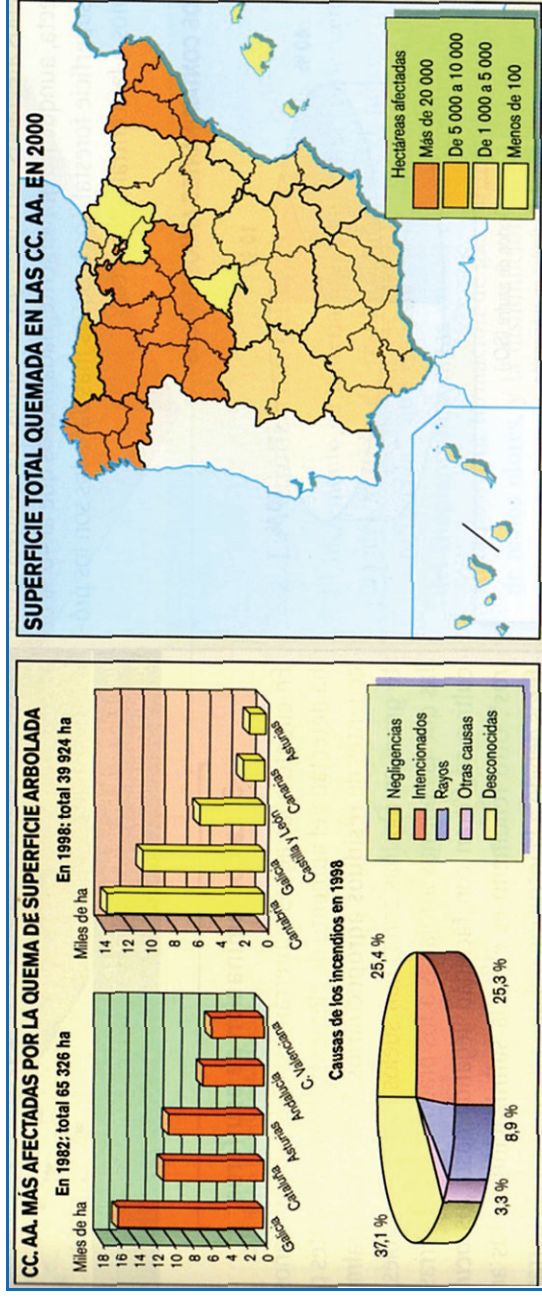


Observe el mapa que se adjunta y responda a las siguientes cuestiones:

- ¿Qué significan los términos “silíceas”, “calizas”, “arcillosas” y “volcánicas” que aparecen en la leyenda? (1 punto)
- ¿Qué tipo de roquedo domina en Lugo, Bilbao, Toledo y Las Palmas? (1 punto)
- Relacione los tipos de rocas existentes en la Península con la evolución geológica de la misma. (1 punto)

**Opción 2**

- Identifique cuáles son la Comunidades Autónomas menos afectadas por los incendios (1 punto).
- Comente brevemente las principales causas de los incendios forestales (1 punto).
- Señale sus consecuencias (1 punto).



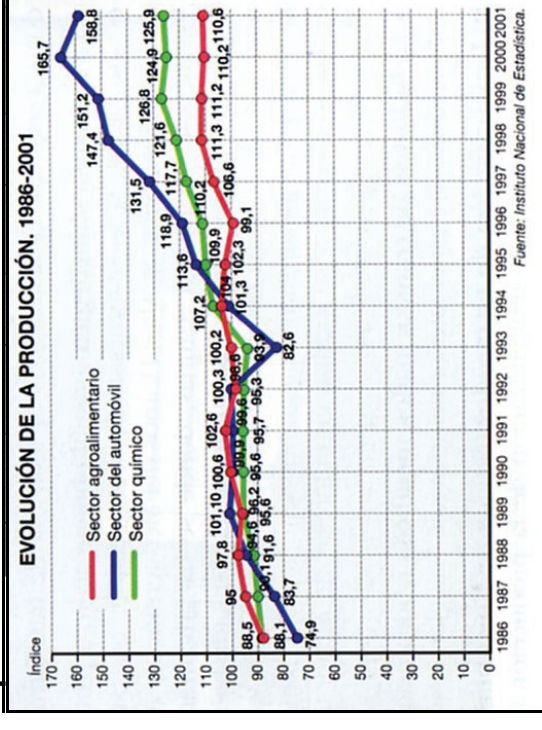
**APARTADO B**

Desarrolle de manera sintética uno de los tres temas siguientes:

- El sistema urbano español. Características y evolución reciente.
- La inmigración en España en la actualidad. Características y consecuencias.
- Los paisajes vegetales de la España mediterránea.

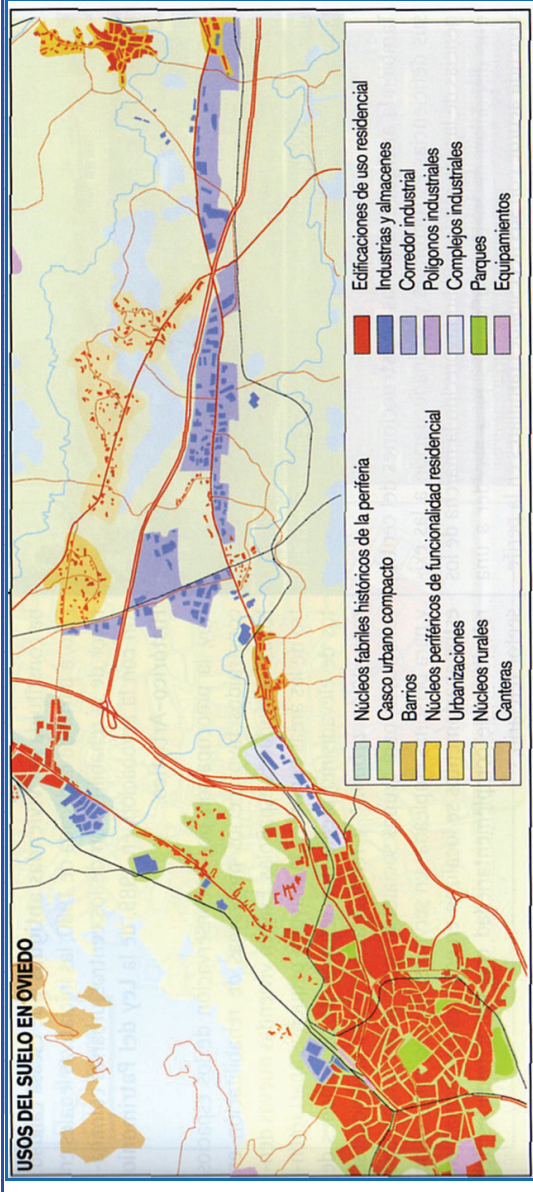
**APARTADO C**

**Opción 1**



Observe el gráfico, comente la evolución de los sectores representados e indique a qué categoría industrial pertenecen.

**Opción 2**



A la vista del mapa que se adjunta, señale los factores de localización de las actividades y las características morfológicas y funcionales del crecimiento de la ciudad de Oviedo por su periferia norte-este