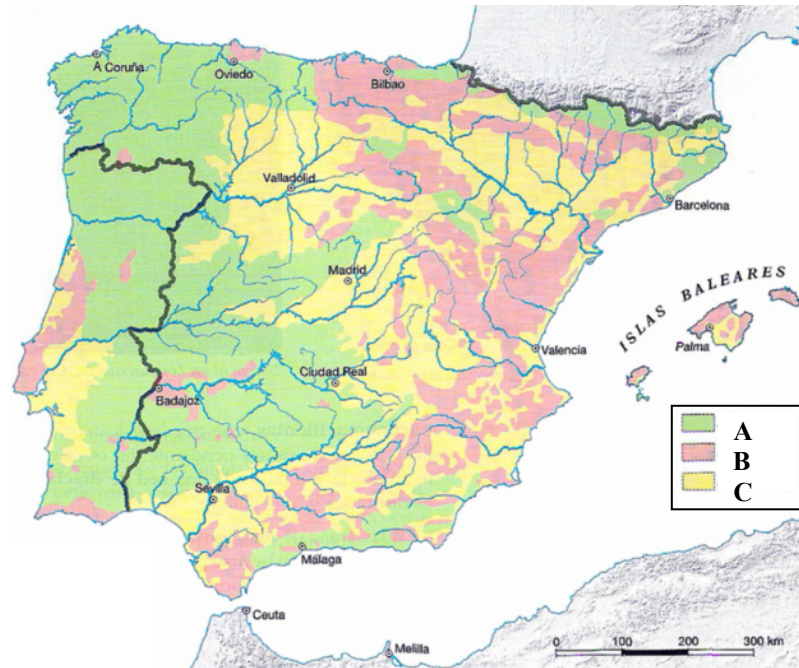


GEOGRAFÍA

El alumnado deberá responder a una de las dos opciones en los **Apartados A y C** (3 puntos cada Apartado) y desarrollar un tema de los propuestos en el **Apartado B** (4 puntos). Además de los contenidos, en la calificación de la prueba, particularmente en el Apartado B, se valorará la redacción, la ortografía y la puntuación.

**APARTADO A**

**Opción 1**

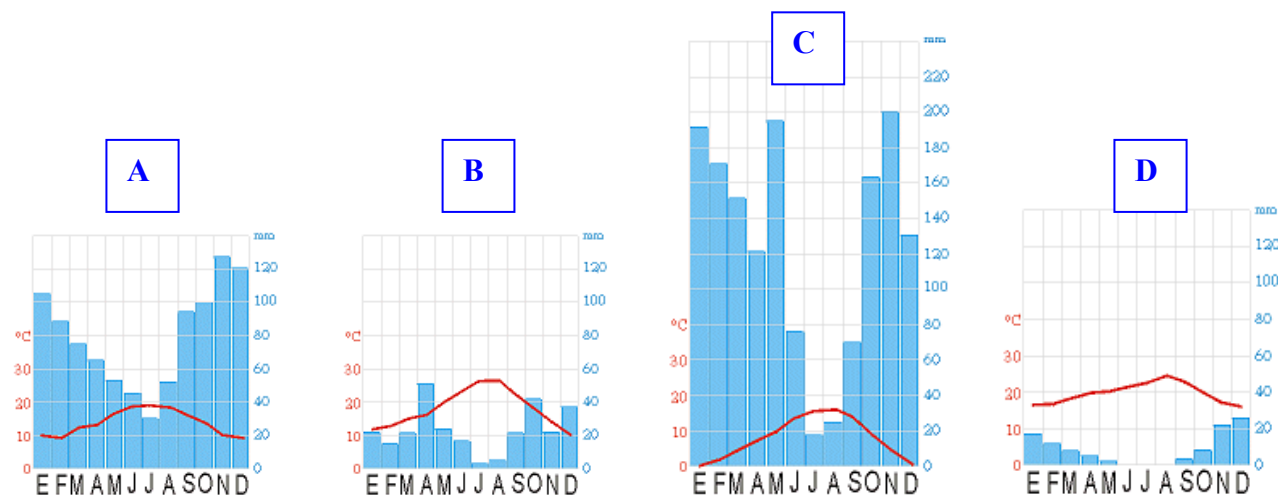


Observe el mapa que se adjunta y responda a las siguientes cuestiones:

- ¿Cómo se denominan las tres áreas que se diferencian en el roquedo peninsular? Identifíquelas utilizando como referencia las letras que aparecen en la cartela del mapa. (1 punto)
- ¿Qué materiales o rocas predominan en el Macizo Asturiano? (1 punto)
- ¿Qué formas de relieve determina la acción erosiva de los ríos en los Picos de Europa? (1 punto)

**Opción 2**

- Identifique a qué tipo de clima corresponde cada uno de los climogramas (1 punto).
- Comente brevemente sus características (1 punto).
- Señale con qué ámbitos de España se corresponde cada uno (1 punto).



**APARTADO B**

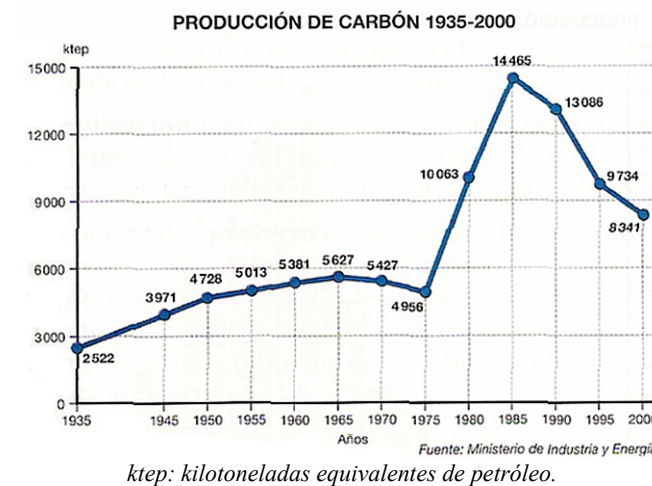
Desarrolle de manera sintética uno de los tres temas siguientes:

- La importancia de los espacios naturales y los planteamientos para su conservación.

- Las migraciones interiores en la actualidad: sus causas
- Las fuentes de energía en Asturias. Fuentes renovables y no renovables y problemas ambientales que generan.

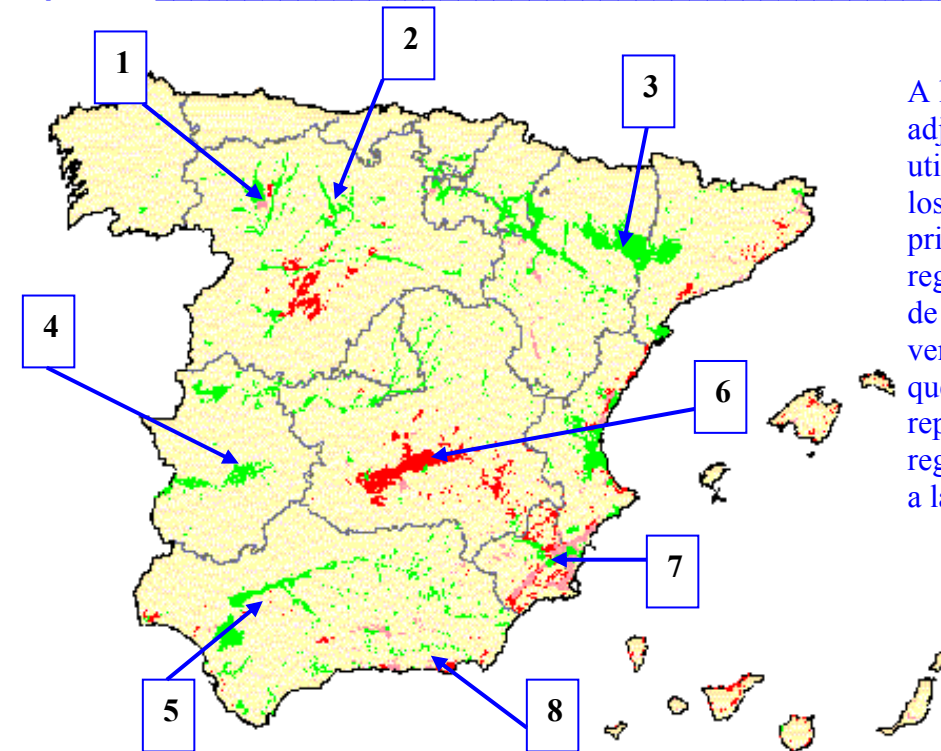
**APARTADO C**

**Opción 1**



Observe el gráfico adjunto y coméntelo, haciendo especial referencia a los motivos del incremento productivo entre 1975 y 1985 y a las causas del retroceso a partir de este último año.

**Opción 2**



A la vista del mapa que se adjunta, identifique, utilizando como referencia los números, las principales zonas de regadío. Comente los tipos de regadíos existentes y las ventajas e inconvenientes que generan (cada color representa un tipo de regadío en lo que se refiere a la procedencia del agua).