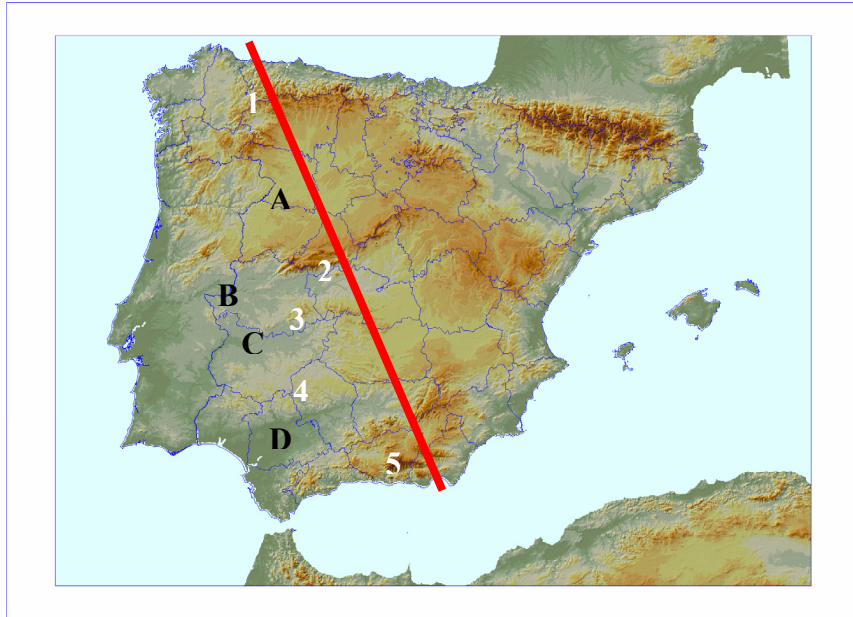




El alumnado deberá responder a una de las dos opciones en los **Apartados A y C** (3 puntos cada Apartado) y desarrollar un tema de los propuestos en el **Apartado B** (4 puntos). Además de los contenidos, en la calificación de la prueba, particularmente en el **Apartado B**, se valorará la redacción, la ortografía y la puntuación.

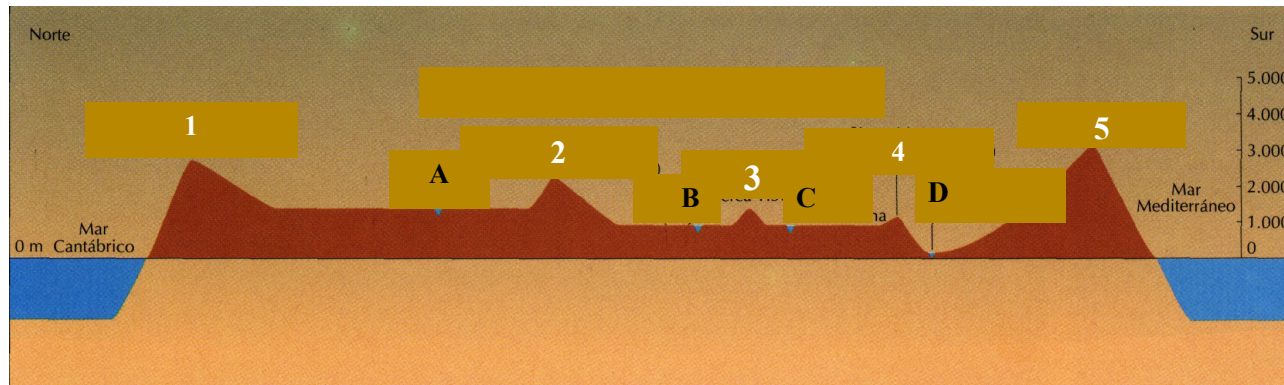
**APARTADO A**

**Opción 1**

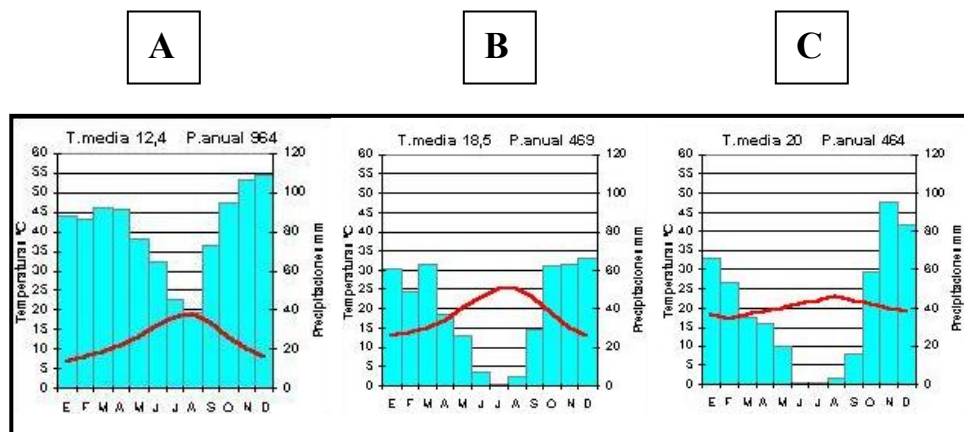


Observe el mapa y el perfil que se adjuntan y de respuesta a los siguientes apartados:

- a) Cite el nombre del accidente geográfico correspondiente a cada número (1 punto).
- b) Señale, utilizando como referencia las letras, el nombre de las cuencas hidrográficas (1 punto).
- c) Señale las características de las sierras interiores de la meseta (1 punto).



**Opción 2**



- 1) Identifique a qué tipo de clima corresponde cada uno de los climogramas (1 punto).
- 2) Comente brevemente sus características (1 punto).
- 3) Señale con qué ámbito de España se corresponden (1 punto).

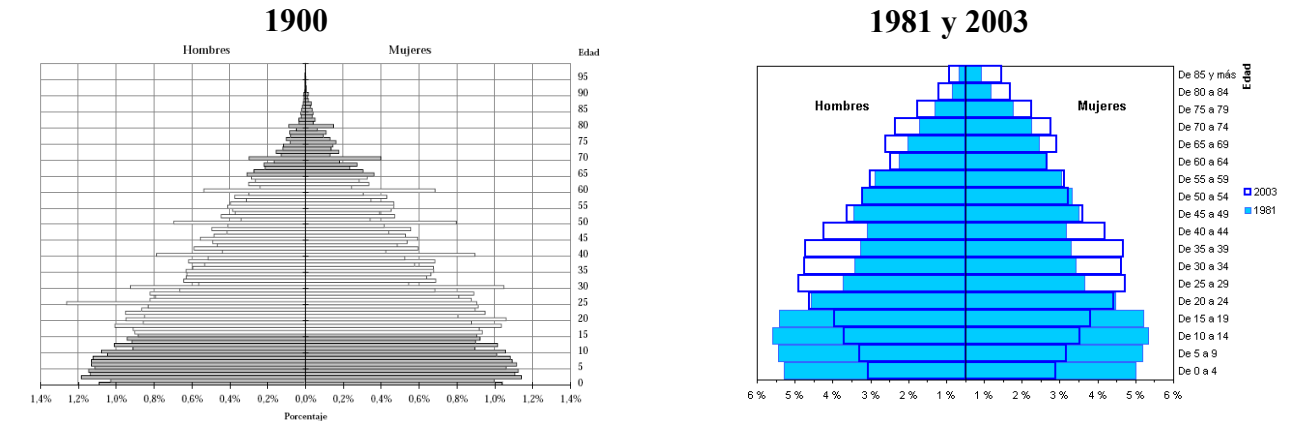
**APARTADO B**

Desarrolle de manera sintética uno de los tres temas siguientes:

- 1) La agricultura española: factores naturales e históricos que explican su diversidad.
- 2) Las formaciones vegetales características de los territorios de clima oceánico.
- 3) La población asturiana en la actualidad: distribución espacial y densidades.

**APARTADO C**

**Opción 1**



Comente las pirámides de población de España de los años 1900, 1981 y 2003, atendiendo preferentemente a los siguientes aspectos: forma de las pirámides, tipo al que pertenecen y causas del tamaño de los tramos más bajos y más altos.

**Opción 2**

Comente la evolución de la población activa agraria española a lo largo de la segunda mitad del siglo XX. Relacione esta evolución con los cambios económicos y sociales habidos

**EVOLUCIÓN DE LA POBLACIÓN ACTIVA AGRARIA**

	TOTAL DE ACTIVOS	ACTIVOS AGRARIOS	% DE ACTIVOS AGRARIOS SOBRE EL TOTAL
1940	9.654.000	5.010.000	51,9
1955	11.798.000	5.414.000	45,9
1965	12.456.000	4.308.000	34,6
1975	13.380.000	2.900.000	22,2
1986	14.184.000	2.017.000	15,0
2000	17.856.560	1.227.000	6,9
2002	18.284.790	1.141.000	6,2

Fuente: INE; a partir de 1975, medias anuales de la EPA