

GEOGRAFÍA

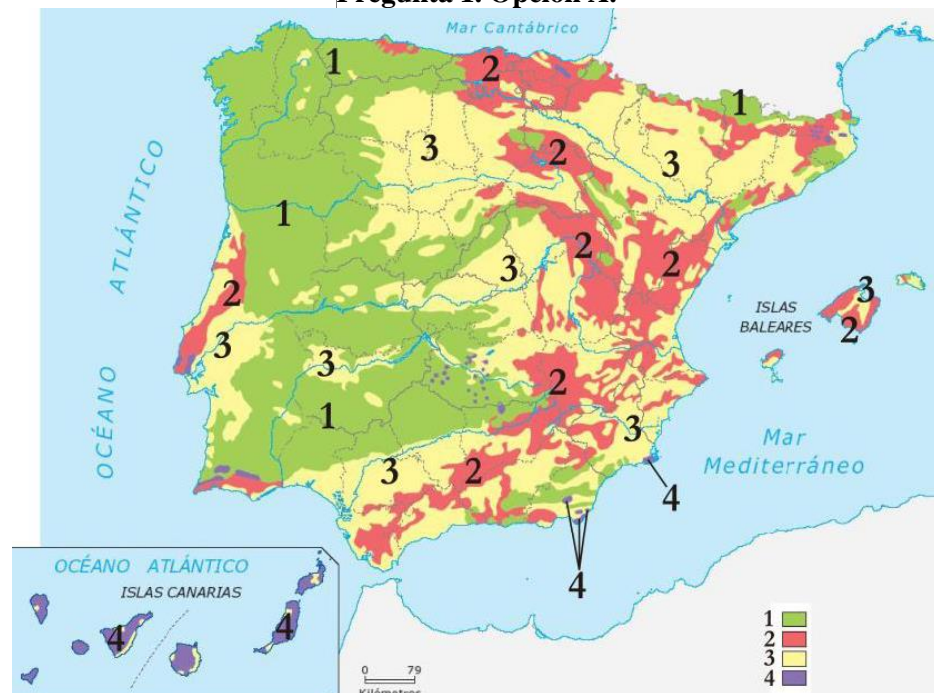
Después de leer atentamente el examen, combine las preguntas de la siguiente forma:

- responda tres preguntas de 2 puntos a elegir entre las preguntas 1.A, 1.B, 2.A, 2.B, 3.A o 3B.
- responda cuatro apartados calificados con 1 punto entre los 8 sugeridos en las preguntas 4.A, 4.B, 5A o 5.B.

TIEMPO Y CALIFICACIÓN: 90 minutos. Las preguntas 1ª, 2ª y 3ª se calificarán con un máximo de 2 puntos. Cada apartado de las preguntas 4ª y 5ª se calificará con un máximo de 1 punto.

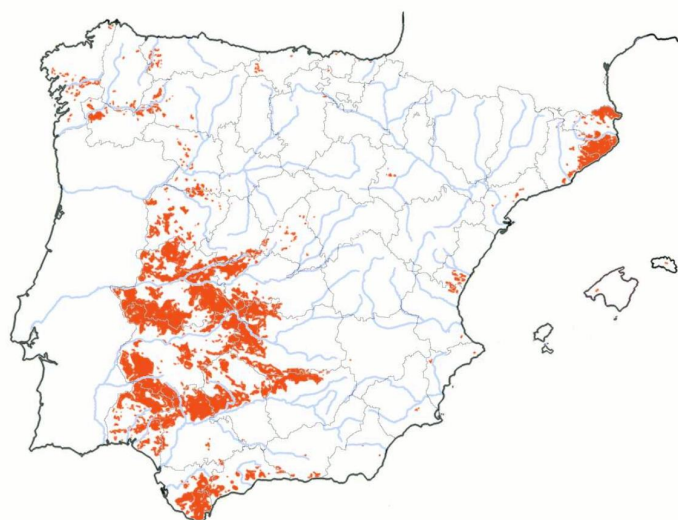
El estudiante deberá indicar la agrupación de preguntas que responderá. La selección de preguntas deberá realizarse conforme a las instrucciones planteadas, no siendo válido seleccionar preguntas que sumen más de 10 puntos, ni agrupaciones de preguntas que no coincidan con las indicadas, lo que puede conllevar la anulación de alguna pregunta que se salga de las instrucciones.

Pregunta 1. Opción A.



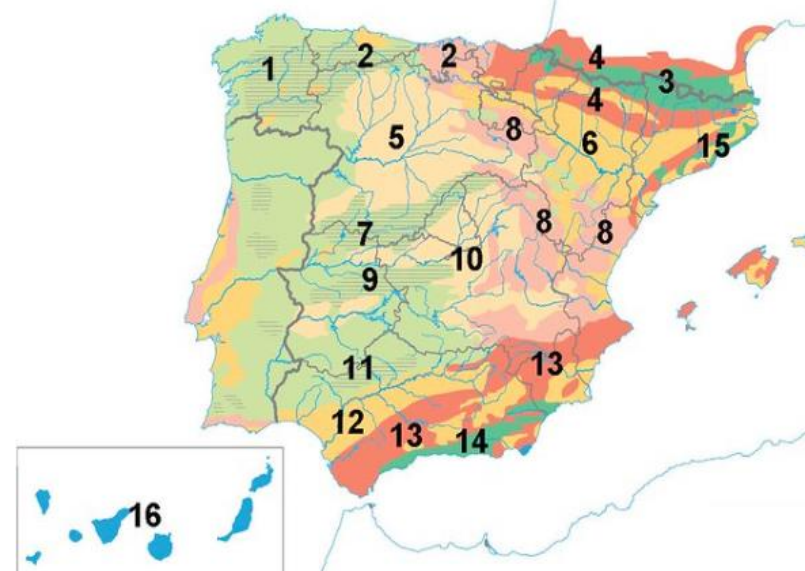
¿Qué tipo de roca predomina en el área litológica señalada con el número 2? Indique el nombre de dos cordilleras o sistemas montañosos que se encuentren en esta zona (2 puntos).

Pregunta 2. Opción A.



¿A qué especie vegetal corresponde la distribución geográfica coloreada en tono naranja en el mapa de España?
¿Qué factores explican esa localización? (2 puntos).

Pregunta 1. Opción B.

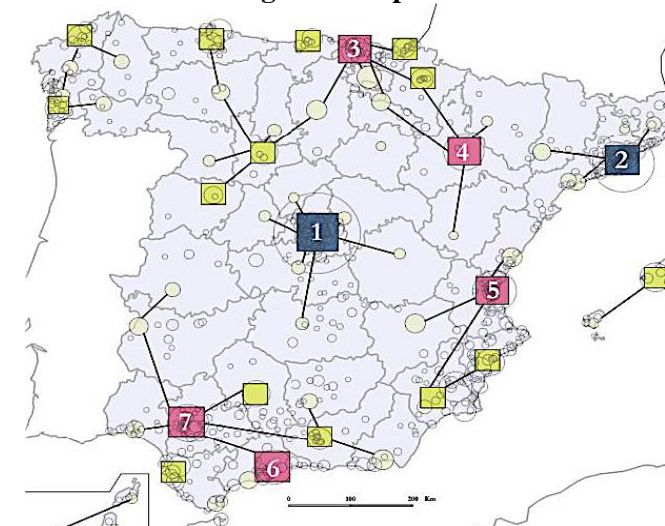


Identifique las unidades de relieve señaladas con los números 5 y 10. ¿Cómo se formaron desde el punto de vista geológico? (2 puntos).

Pregunta 2. Opción B.

Desarrolle de manera sintética el siguiente tema: Problemas derivados de la intervención humana en la naturaleza: la alteración y la destrucción de la cubierta vegetal (2 puntos).

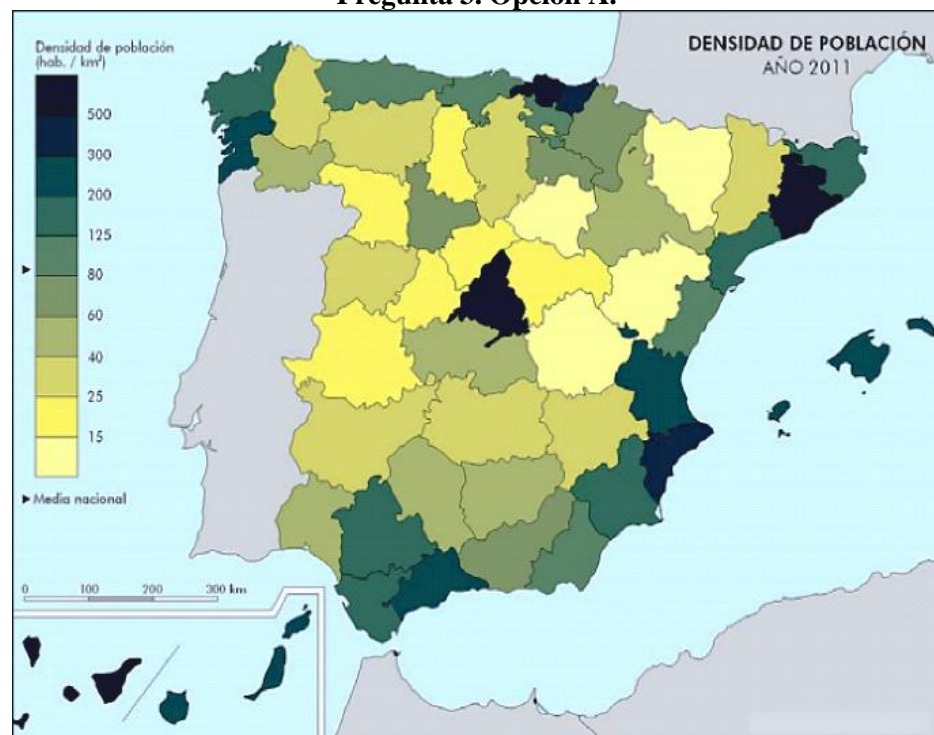
Pregunta 3. Opción B.



¿Qué dos ciudades ocupan el primer nivel jerárquico en la red urbana española? ¿Qué funciones y actividades explican esa importancia? (2 puntos).

GEOGRAFÍA

Pregunta 3. Opción A.



Identifique tres provincias con más de 200 habitantes por kilómetro cuadrado (tonos más oscuros). ¿Qué factores explican la mayor densidad de población en esos territorios? (2 puntos).

Pregunta 4. Opción A.

Desarrolle de manera sintética:


- a) Los medios de transporte en España: el transporte ferroviario (1 punto).
- b) Los medios de transporte en España: el transporte aéreo (1 punto).

Pregunta 5. Opción A.



- a) Identifique los países fronterizos que llevan los números 2, 3 y 4 (1 punto).
- b) Entre todos los países que limitan con España, ¿cuáles pertenecen a la Unión Europea? (1 punto).

Pregunta 4. Opción B.



- a) Identifique el tipo de paisaje de la imagen y señale qué especies arbóreas son comunes (1 punto).
- b) Explique qué aprovechamiento realizan las comunidades humanas en este tipo de terreno (1 punto).

Pregunta 5. Opción B.



- a) Indique el número y el nombre de las Comunidades Autónomas sin costa (1 punto).
- b) Indique el número y el nombre de las Comunidades Autónomas limítrofes con Andalucía (1 punto).