

GEOGRAFÍA


Después de leer atentamente el examen, combine las preguntas de la siguiente forma:

- Responda tres preguntas de 2 puntos a elegir entre las preguntas 1.A, 1.B, 2.A, 2.B, 3.A o 3B.
- Responda cuatro apartados calificados con 1 punto entre los 8 sugeridos en las preguntas 4.A, 4.B, 5A o 5.B.

TIEMPO Y CALIFICACIÓN: 90 minutos. Las preguntas 1ª, 2ª y 3ª se calificarán con un máximo de 2 puntos. Cada apartado de las preguntas 4ª y 5ª se calificará con un máximo de 1 punto.

El estudiante deberá indicar la agrupación de preguntas que responderá. La selección de preguntas deberá realizarse conforme a las instrucciones planteadas, no siendo válido seleccionar preguntas que sumen más de 10 puntos, ni agrupaciones de preguntas que no coincidan con las indicadas, lo que puede conllevar la anulación de alguna pregunta que se salga de las instrucciones..

Pregunta 1. Opción A.



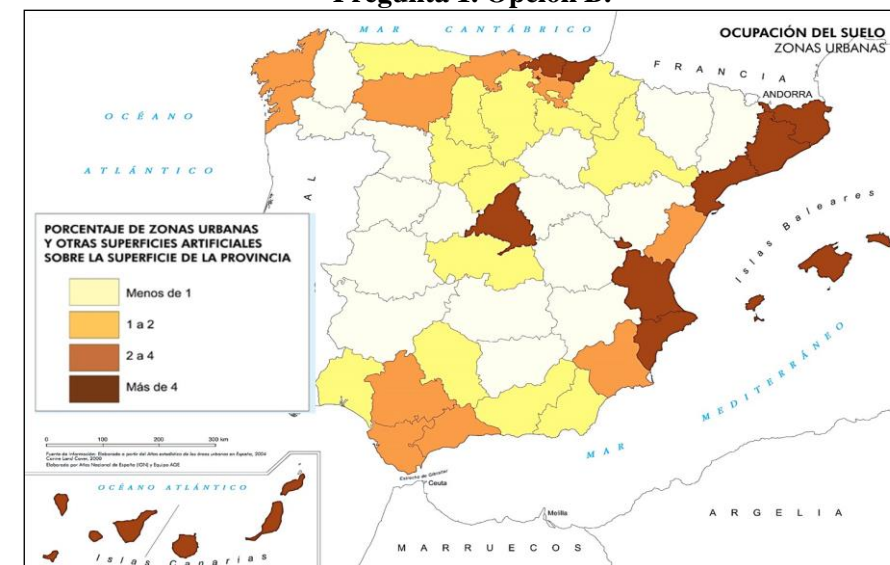
¿En qué tipo de unidad morfoestructural es común el paisaje de la fotografía? ¿En qué tipos de rocas se labra el relieve del centro de la imagen? (2 puntos).

Pregunta 2. Opción A.



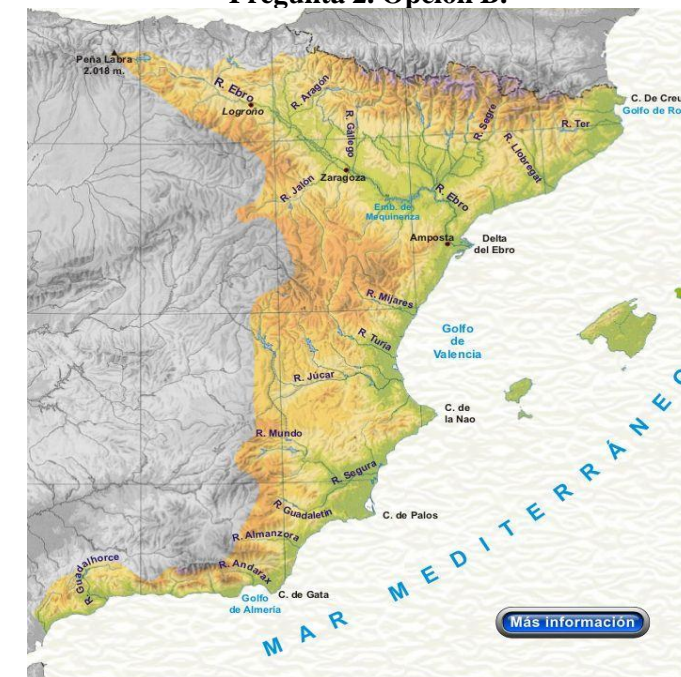
¿Qué denominación genérica reciben los espacios de diferentes clases representados en el mapa? ¿Mediante qué ley se rigen actualmente y qué dos requisitos establece para ellos? (2 puntos).

Pregunta 1. Opción B.



Identifique las provincias con un porcentaje de superficies urbanas y otras artificiales superior a 4. Señale las causas principales que explican este fenómeno en las mismas (2 puntos).

Pregunta 2. Opción B.



¿Qué área aparece destacada en el mapa? ¿Cuáles son sus principales características? Entre sus elementos constitutivos, ¿existe alguno que presente particularidades respecto al resto? (2 puntos).

GEOGRAFÍA

Pregunta 3. Opción A.



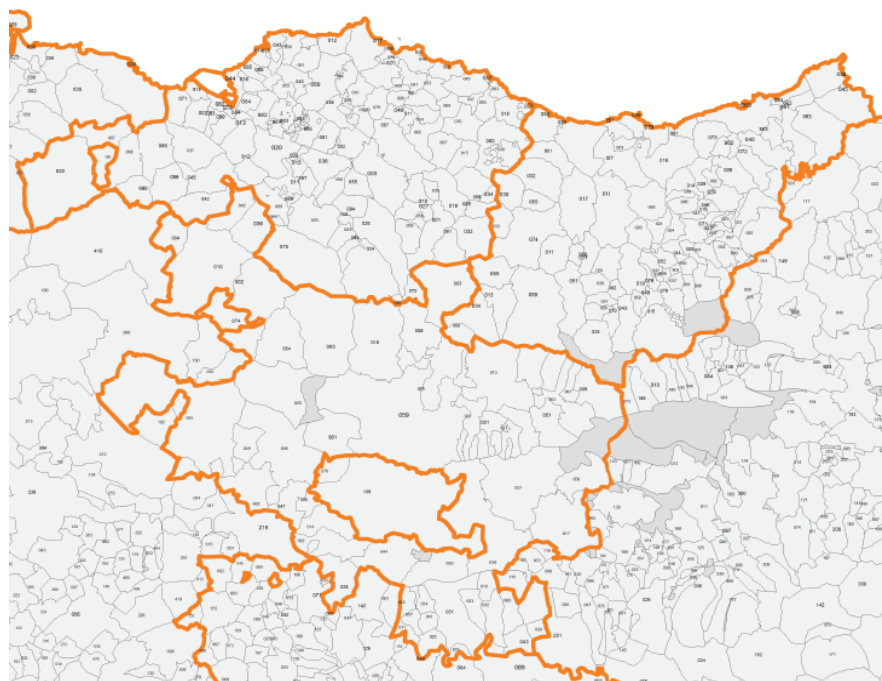
Observando la trama urbana de las zonas 1 y 2, indique el criterio por que el se identifican con tonalidades diferentes las partes de la ciudad en este plano de Oviedo. Además, ¿qué diferencias morfológicas existen entre esos tipos de áreas urbanas (1 y 2)? (2 puntos).

Pregunta 4. Opción A.

Desarrolle de manera sintética:

- Los inicios de la industrialización en España: dificultades para el despegue industrial (1 punto).
- Los inicios de la industrialización en España: industrias representativas y zonas industrializadas (1 punto).

Pregunta 5. Opción A.



- ¿Qué división territorial está delimitada con línea gruesa? ¿Cuándo surge y quién la promueve? (1 punto).
- ¿Qué delimita la línea fina? ¿Qué institución gestiona cada unidad de este tipo? (1 punto).

Pregunta 3. Opción B.



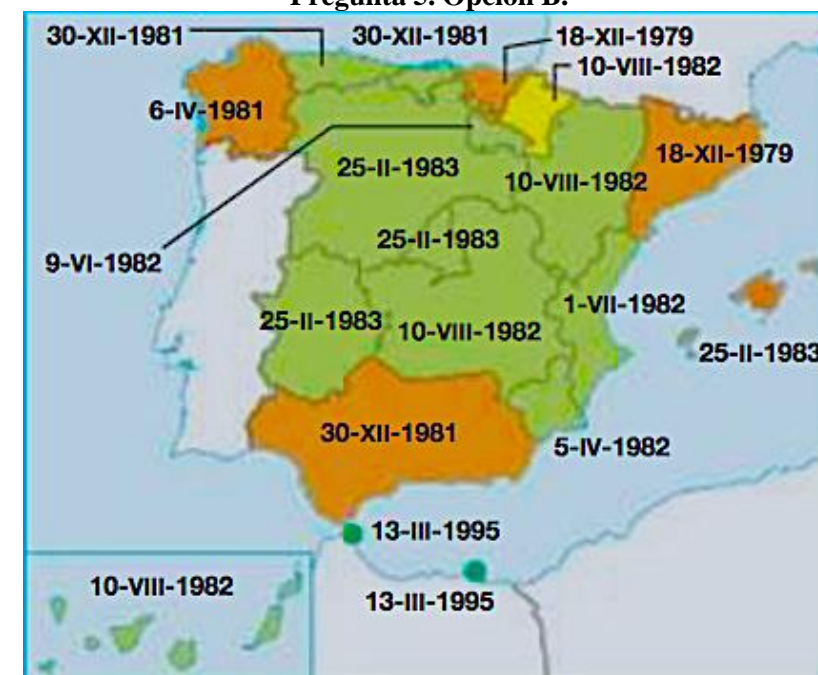
¿A qué época corresponde el origen de la parte de la ciudad de Zaragoza señalada en el plano y en la foto? ¿Qué nombre recibían los dos ejes principales –en amarillo en el plano–? Señale los principales factores de localización del primitivo emplazamiento (2 puntos).

Pregunta 4. Opción B.

Desarrolle de manera sintética:

- El sistema de propiedad y de explotación agraria: el tamaño (1 punto).
- El sistema de propiedad y de explotación agraria: el régimen de tenencia (1 punto).

Pregunta 5. Opción B.



- ¿Qué expresan las fechas del mapa? ¿En qué consiste el proceso al que aluden? (1 punto).
- ¿Por qué se distinguen los territorios con colores? ¿Qué representa la distinción de Navarra? (1 punto).